


Mis tarjetas de palabras

Usa los ejemplos de las palabras de las tarjetas para ayudarte a completar las definiciones que están al reverso.

a. m.



p. m.



tiempo transcurrido

inicio

final



1 hora de tiempo transcurrido

intervalo de tiempo

$$35 \text{ min} + ? \text{ min} = 45 \text{ min}$$

$$35 \text{ min} + 10 \text{ min} = 45 \text{ min}$$

El intervalo de tiempo es de 10 minutos.

Mis tarjetas de palabras

Completa cada definición. Para ampliar lo que aprendiste, escribe tus propias definiciones.



Al tiempo entre el mediodía y la medianoche se le llama _____.

Al tiempo entre la medianoche y el mediodía se le llama _____.

Un _____ es una cantidad de tiempo.

El tiempo total que transcurre desde el inicio hasta el final se llama _____.

Mis tarjetas de palabras

Usa los ejemplos de las palabras de las tarjetas para ayudarte a completar las definiciones que están al reverso.

capacidad (volumen líquido)



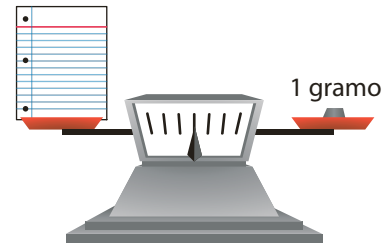
litro (L)



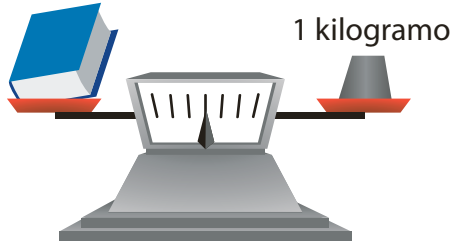
masa



gramo (g)



kilogramo (kg)



Mis tarjetas de palabras

Completa cada definición. Para ampliar lo que aprendiste, escribe tus propias definiciones.

Un _____ es una unidad métrica de capacidad. Un litro tiene aproximadamente la capacidad de una botella de gaseosa de tamaño mediano.

La medida de la cantidad de líquido que un recipiente puede contener se llama _____.

Un _____ es una unidad métrica de masa. Un gramo es aproximadamente la masa de un clip.

_____ es la medida de la cantidad de materia que hay en un objeto.

Un _____ es una unidad métrica de masa. Un kilogramo es aproximadamente la masa de un libro de texto.