

Mis tarjetas de palabras

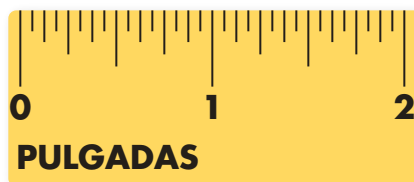
Estudia las palabras de las tarjetas.
Completa la actividad que está al reverso.

estimación

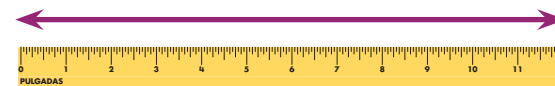
El libro mide
aprox. 1 pie
de longitud.



pulgada (pulg.)



pie



yarda (yd)

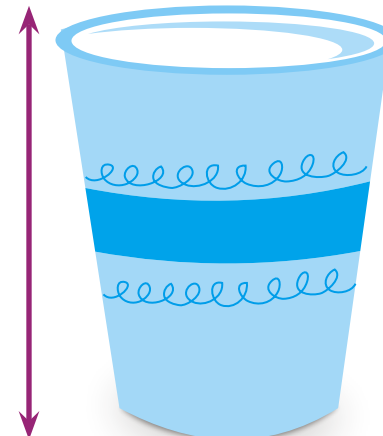


longitud



distancia a lo largo

altura



Mis tarjetas de palabras

Usa lo que sabes para completar las oraciones. Para ampliar lo que aprendiste, escribe tu propia oración usando cada palabra.

Un _____

es una unidad estándar de longitud igual a 12 pulgadas.

Una _____

es una unidad estándar de longitud que es parte de 1 pie.

Cuando haces una _____,

haces una suposición.

La _____

es cuanto mide un objeto de abajo a arriba.

La _____

es la distancia de un extremo de un objeto al otro.

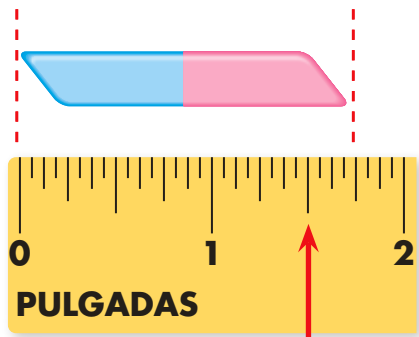
Una _____

es una unidad estándar de longitud igual a 3 pies.

Mis tarjetas de palabras

Estudia las palabras de las tarjetas.
Completa la actividad que está al reverso.

pulgada más cercana



marca de la mitad

centímetro (cm)




centímetro más cercano



marca de la mitad

metro (m)



Mis tarjetas de palabras

Usa lo que sabes para completar las oraciones. Para ampliar lo que aprendiste, escribe tu propia oración usando cada palabra.

El centímetro que se encuentra más próximo a la medida es la/el

Un _____

es una unidad métrica de longitud que es parte de 1 metro.

La pulgada que se encuentra más próxima a la medida es la/el

Un _____

es una unidad métrica de longitud igual a 100 centímetros.