

Mis tarjetas de palabras

Estudia las palabras de las tarjetas.
Completa la actividad que está al reverso.

moneda de 10¢



moneda de 5¢



moneda de 1¢




moneda de 25¢



moneda de 50¢



centavos (¢)



1 centavo
o 1¢

10 centavos
o 10¢

Mis tarjetas de palabras

Usa lo que sabes para completar las oraciones. Para ampliar lo que aprendiste, escribe tu propia oración usando cada palabra.

Una _____

vale 1 centavo o 1¢.

Una _____

vale 5 centavos o 5¢.

Una _____

vale 10 centavos o 10¢.

El valor de una moneda se mide en

_____.

El símbolo para los centavos es

_____.

Una _____

vale 50 centavos o 50¢.

Una _____

vale 25 centavos o 25¢.

Mis tarjetas de palabras

Estudia las palabras de las tarjetas.
Completa la actividad que está al reverso.

mayor valor



La moneda de 25¢
tiene el mayor valor.

menor valor



La moneda de 10¢
tiene el menor valor.

dólar

\$1 o 100¢



símbolo de dólar

\$37

↑
símbolo de dólar

billetes de dólar



marca de conteo

Maneras de formar 30¢

Moneda de 25¢	Moneda de 10¢	Moneda de 5¢	Total
I		I	30¢
	III		30¢
	II	II	30¢
	I	IIII	30¢
		III I	30¢

Mis tarjetas de palabras

Usa lo que sabes para completar las oraciones. Para ampliar lo que aprendiste, escribe tu propia oración usando cada palabra.

Un _____

es igual a 100¢.

La moneda que tiene el

es la moneda que
menos vale.

La moneda que tiene el

es la moneda que
más vale.

Usa _____

para llevar la cuenta de
toda la información en una
lista organizada.

Los _____

pueden tener diferente
valor en dólares, como
\$1, \$5, \$10 o \$20.

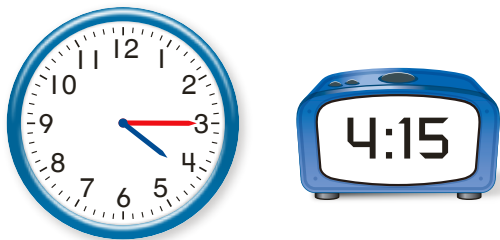
El _____

es un símbolo usado para
mostrar el valor del dinero
en dólares.

Mis tarjetas de palabras

Estudia las palabras de las tarjetas.
Completa la actividad que está al reverso.

y cuarto




Son las 4 y cuarto.

y media



Son las 9 y media.

cuarto para



Falta un cuarto para las 4.

a. m.



hora de desayunar

p. m.



hora de cenar

Mis tarjetas de palabras

Usa lo que sabes para completar las oraciones. Para ampliar lo que aprendiste, escribe tu propia oración usando cada palabra.

Un _____

es 15 minutos antes de la hora.

30 minutos después de la hora es

_____.

es 15 minutos después de la hora.

La hora del reloj desde el mediodía hasta la medianoche se muestra como

La hora del reloj desde la medianoche hasta el mediodía se muestra como
