


Mis tarjetas de palabras


Estudia las palabras de las tarjetas.
Completa la actividad que está al reverso.

par



8 es par.

impar




9 es impar.


matriz



fila



columna



Mis tarjetas de palabras

Usa lo que sabes para completar las oraciones. Para ampliar lo que aprendiste, escribe tu propia oración usando cada palabra.

Una _____

es un grupo de objetos colocados en filas y columnas que forman un rectángulo.

Un número _____

no se puede mostrar como pares de cubos.

Un número _____

se puede mostrar como pares de cubos.

Los objetos que se muestran de arriba a abajo en una matriz están en una _____.

Los objetos que se muestran de lado a lado en una matriz están en una _____.