


Mis tarjetas de palabras

Estudia las palabras de las tarjetas.
Completa la actividad que está al reverso.


partes iguales

Hay 2 **partes** iguales.




mitades

El círculo está dividido en **mitades**.




cuartos

Un cuadrado está dividido en **cuartos**.



cuartas partes

El círculo está dividido en **cuartas partes**, otra manera de decir cuartos.



Mis tarjetas de palabras

Usa lo que sabes para completar las oraciones. Para ampliar lo que aprendiste, escribe tu propia oración usando cada palabra.

Un todo dividido en 4 partes iguales está dividido en

_____ ,

o cuartas partes.

Cuando un todo está dividido en 2 partes iguales, las partes se llaman

_____ .

Las partes de un todo que tienen el mismo tamaño

son _____

_____ .

Las 4 partes iguales de un todo se llaman cuartos o

_____ .