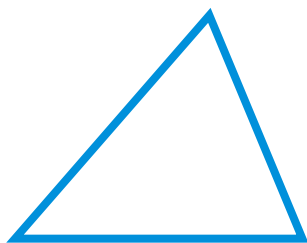


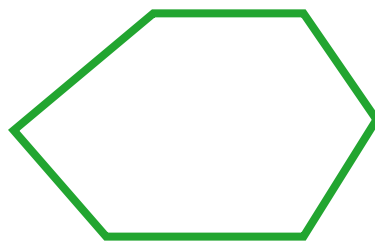
Mis tarjetas de palabras

Estudia las palabras de las tarjetas.
Completa la actividad que está al reverso.

triángulo




hexágono



figuras bidimensionales

Las **figuras bidimensionales** son planas.



circulo




hexágono

atributo

Todos los triángulos son figuras cerradas.



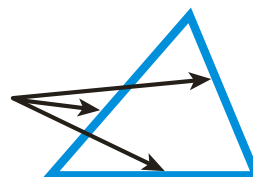
triángulo




no es triángulo

lado

3 lados rectos



vértice



vértices



Mis tarjetas de palabras

Usa lo que sabes para completar las oraciones. Para ampliar lo que aprendiste, escribe tu propia oración usando cada palabra.

Los círculos y los hexágonos son

Una figura cerrada con 6 esquinas se llama un

Una figura cerrada con 3 esquinas se llama un

Otro nombre para la esquina de una figura es

Todos los triángulos tienen 3

rectos.

Un _____

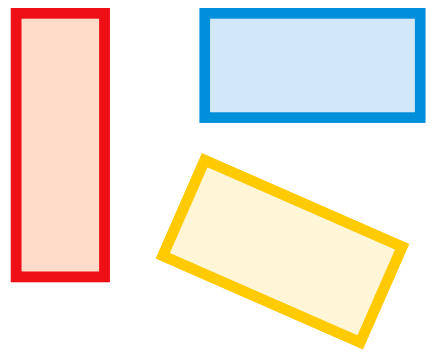
puede ayudar a definir

una figura.

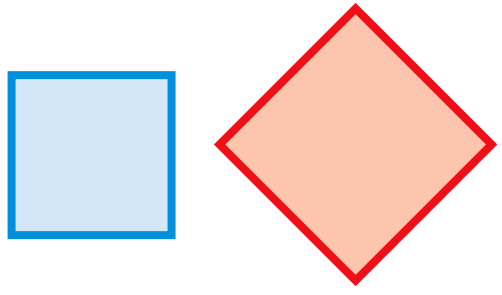
Mis tarjetas de palabras

Estudia las palabras de las tarjetas.
Completa la actividad que está al reverso.


rectángulo




cuadrado




figuras tridimensionales




superficies planas



cilindro



cono



Mis tarjetas de palabras

Usa lo que sabes para completar las oraciones. Para ampliar lo que aprendiste, escribe tu propia oración usando cada palabra.

Las _____

no son planas.

Un _____

es un tipo especial de

rectángulo.

Todos los

tienen 4 lados y 4 vértices

con ángulos rectos.

Un _____

solo tiene 1 superficie

plana.

Un _____

tiene 2 superficies planas.

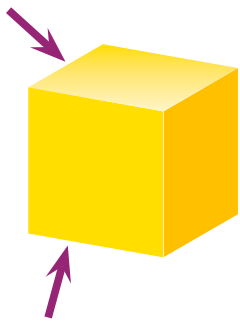
Algunas

son círculos.

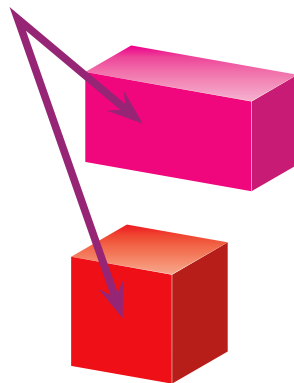
Mis tarjetas de palabras

Estudia las palabras de las tarjetas.
Completa la actividad que está al reverso.


bordes




caras




prisma rectangular



esfera



cubo



Mis tarjetas de palabras

Usa lo que sabes para completar las oraciones. Para ampliar lo que aprendiste, escribe tu propia oración usando cada palabra.

Un _____

es una figura tridimensional con 6 caras rectangulares, 12 aristas y 8 vértices.

Las superficies planas de una figura que no rueda se llaman

_____.

Se forma un

cuando se juntan 2 caras.

Un _____

tiene 6 caras cuadradas.

Una _____

no tiene superficies planas.