

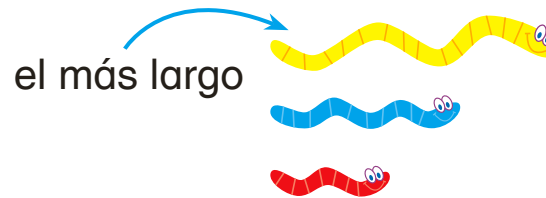
# Mis tarjetas de palabras

Estudia las palabras de las tarjetas.  
Completa la actividad que está al reverso.

longitud



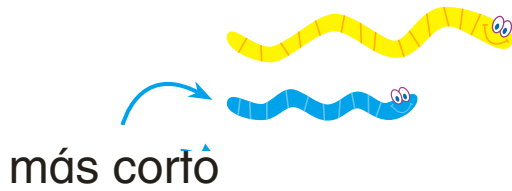
el más largo



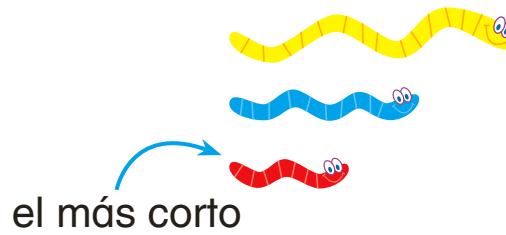
más largo




más corto



el más corto



medir



3 

# Mis tarjetas de palabras

Usa lo que sabes para completar las oraciones. Para ampliar lo que aprendiste, escribe tu propia oración usando cada palabra.

Un objeto que mide 7 cubos de largo es

\_\_\_\_\_ que un objeto que mide 2 cubos de largo.

El objeto que mide más unidades es

\_\_\_\_\_.

\_\_\_\_\_ es la distancia que hay de un extremo al otro del objeto.

Se \_\_\_\_\_

un objeto usando cubos u otras herramientas para saber su longitud.

El objeto que mide menos unidades es

\_\_\_\_\_.

Un objeto que mide 2 cubos de largo es

\_\_\_\_\_ que uno que mide 7 cubos de largo.