

# Mis tarjetas de palabras

Estudia las palabras de las tarjetas.  
Completa la actividad que está al reverso.

sumar



$$5 + 3 = 8$$

más

$$5 + 4$$

5 más 4

Esto significa que 4 se suma a 5.

suma o total

$$2 + 3 = 5$$



suma o total

igual a

$$5 = 4 + 1$$

5 es igual a 4 más 1.

$$5 + 2 = 7$$

5 más 2 es igual a 7.


parte

2 y 3 son partes de 5.



todo

5



El todo es 5.

# Mis tarjetas de palabras

Usa lo que sabes para completar las oraciones. Para ampliar lo que aprendiste, escribe tu propia oración usando cada palabra.

La respuesta de una ecuación de suma se llama

\_\_\_\_\_.

2 \_\_\_\_\_

2 es igual a 4.

Uso un signo más para

\_\_\_\_\_.

Cuando sumo todas las partes, formo un

\_\_\_\_\_.

Una \_\_\_\_\_

es un pedazo de un todo.

4 más 4 es

\_\_\_\_\_ 8.

# Mis tarjetas de palabras

Estudia las palabras de las tarjetas.  
Completa la actividad que está al reverso.

## ecuación

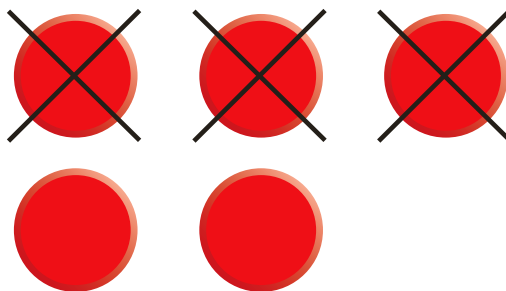
$$6 + 4 = 10$$

$$4 = 6 - 2$$

$$6 + 4 = 8 + 2$$

Estas son **ecuaciones**.

## restar



$$5 - 3 = 2$$

## menos

$$5 - 3$$

5 **menos** 3

Esto significa que a 5 se le quitan 3.

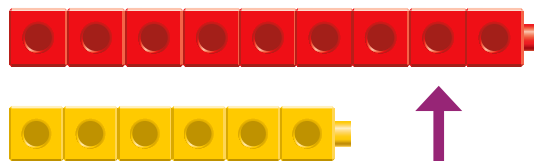
## diferencia

$$4 - 1 = 3$$



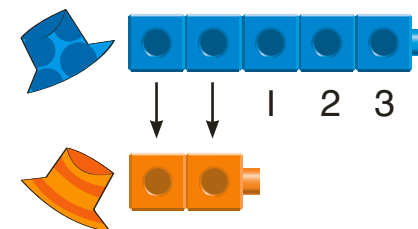
**diferencia**

## más



La fila roja tiene **más**.

## comparar



# Mis tarjetas de palabras

Usa lo que sabes para completar las oraciones. Para ampliar lo que aprendiste, escribe tu propia oración usando cada palabra.

5 \_\_\_\_\_

3 es igual a 2.

Uso un signo menos para

\_\_\_\_\_.

Una oración matemática con un signo igual se llama una

\_\_\_\_\_.

Quando quieres saber qué grupo tiene más o menos tienes que

\_\_\_\_\_.

El grupo con la mayor cantidad de objetos tiene

\_\_\_\_\_.

La respuesta de una ecuación de resta se llama

\_\_\_\_\_.

# Mis tarjetas de palabras

Estudia las palabras de las tarjetas.  
Completa la actividad que está al reverso.


menos



La fila amarilla tiene  
**menos.**

sumando

$$6 + 3 = 9$$



sumandos



# Mis tarjetas de palabras



Usa lo que sabes para completar las oraciones. Para ampliar lo que aprendiste, escribe tu propia oración usando cada palabra.

Los números que sumas para hallar el todo se llaman

\_\_\_\_\_.

Un grupo con una cantidad menor de objetos tiene

\_\_\_\_\_ objetos.