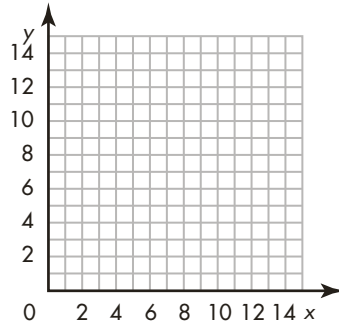


Graficar ecuaciones

Usa los números de la tabla para marcar puntos en la gráfica de coordenadas. Halla los valores de x y y usando la ecuación para hallar los pares ordenados restantes. Traza una línea para mostrar el patrón.

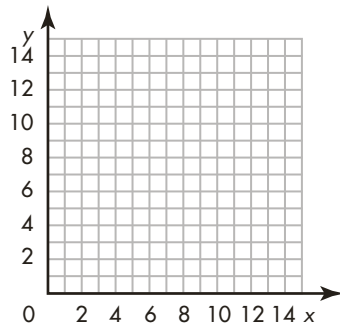
1. $y = x - 1$

x	y
1	0
2	1
3	
8	



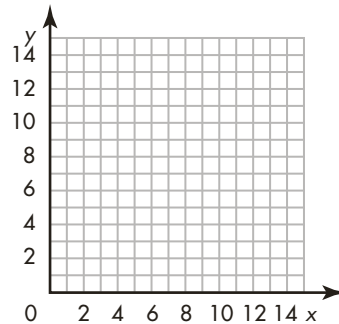
2. $y = 2 \times x$

x	y
1	2
2	
3	
	12



3. $y = x + 5$

x	y
1	
2	7
	8
9	



4. $y = 4 \times x$

x	y
	4
2	8
3	12

