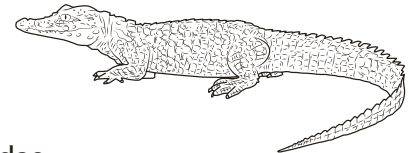
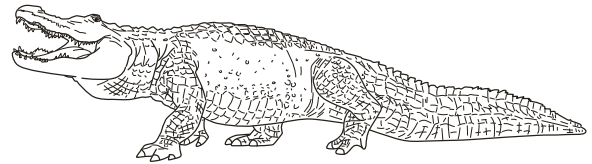


Caimanes y cocodrilos

El caimán norteamericano es el reptil oficial de la Florida, Louisiana y Mississippi. Con millones de caimanes viviendo en el sudeste de los Estados Unidos, se ha convertido en el símbolo de la vasta zona silvestre, pantanos y lagos de esa parte del país.

A menudo hay historias de que se han visto o capturado caimanes gigantes. Muchas de esas historias afirman que los caimanes miden 15, 20 o incluso 28 pies de longitud. En su mayoría son relatos exagerados. Por ejemplo, el caimán más largo de la Florida, oficialmente medido, tenía 14 pies y 3.5 pulgadas de longitud (4.36 metros). Fue capturado en el lago Washington, en el condado de Brevard.



El sur de la Florida es el único lugar del planeta donde los caimanes y los cocodrilos conviven en estado salvaje. En otros lugares, los caimanes escogen permanecer en agua dulce, mientras los cocodrilos viven en hábitats de agua salada. ¿Qué otras diferencias tienen los caimanes y los cocodrilos?

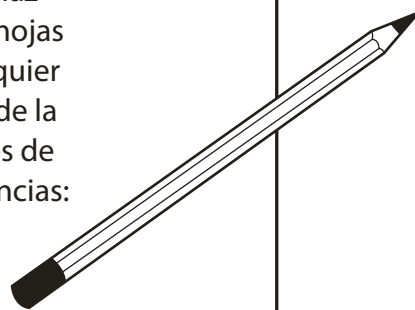
Tu proyecto **Compara los tamaños de los reptiles**

Investiga sobre el cocodrilo más grande jamás medido. Anota su longitud en metros y tu fuente de información. Luego, mide la altura de tu maestro en metros. Asegúrate de que ambas medidas sean correctas hasta el lugar de las centésimas.

Para ver qué tan grandes son estos reptiles, haz modelos de papel de tamaño real pegando hojas de papel y cortando sus formas. Dibuja cualquier otro detalle de los animales. Haz una marca de la altura de tu maestro y etiqueta las longitudes de los reptiles. Luego, halla y etiqueta las diferencias:


- La altura de tu maestro y la longitud del caimán récord de la Florida
- La altura de tu maestro y la longitud del cocodrilo más grande
- Las longitudes del caimán récord de la Florida y el cocodrilo más grande

Registro del caimán de Florida	El cocodrilo más grande



Hogar de los mejores parques de diversiones

La Florida atrae más visitantes que ningún otro destino de parques de diversiones. De hecho, 7 de los 10 parques de diversiones más visitados están ubicados en la Florida. Walt Disney World®, que es el parque de diversiones más grande del mundo, se encuentra en Orlando. Disney no solo es considerado el parque más popular de América del Norte sino también del resto del mundo.



Cuando el parque abrió, en 1971, el precio de los boletos era \$1.00 para los niños y \$3.50 para los adultos. Los talonarios para los juegos mecánicos y para las atracciones se vendían por separado, y tenían boletos para 7, 9 u 11 juegos. Un boleto suelto para un juego mecánico de primera calidad podía comprarse por 90¢.

Los visitantes pueden conseguir mejores precios cuando compran por adelantado los boletos para las atracciones. Usualmente los boletos se ofrecen a menor precio antes de la temporada alta, como los días feriados o las vacaciones de primavera. Los habitantes de la Florida pueden comprar pases fuera de temporada a precios mucho más bajos que los que pagan los que viven fuera del estado.

Tu proyecto Haz un folleto para un parque temático

Imagina que eres el dueño de un pequeño parque temático. Piensa cuatro atracciones principales que te gustaría tener en el parque. Supón que ofrecerás dos tipos de boletos: uno para cada vuelta suelta y otro para vueltas ilimitadas. Decide un precio razonable por cada vuelta suelta en cada atracción. Considera que los precios deben ser diferentes. Luego, basándote en los precios de las vueltas sueltas, determina un precio razonable de un boleto para vueltas ilimitadas. Todas las cantidades deben ser en dólares y centavos, por ejemplo, \$11.25.

Haz un folleto que presente la siguiente información:

- Los nombres e imágenes de las cuatro atracciones
- El precio del boleto para vueltas sueltas de cada atracción
- El precio del boleto para vueltas ilimitadas

			
Montaña rusa	Rueda de Chicago	Carrusel	Pulpo

Nombre _____

Escoge un proyecto

Proyecto 2C

Información sobre calorías en los menús de los restaurantes

Una manera de mantenerte saludable es balancear la cantidad de calorías que comes y bebes con la cantidad de calorías que quemas durante las actividades físicas. Las calorías son unidades de energía de la comida y las bebidas. Si consumes muchas calorías puedes tener riesgo de problemas de salud como enfermedades cardíacas o diabetes.

La Agencia Reguladora de Alimentos y Medicamentos de los Estados Unidos ha publicado nuevas reglas para ayudar a la gente a llevar la cuenta de las calorías que consume. Ahora los restaurantes deben incluir información sobre calorías en sus menús y de esta manera puedes planear las comidas que son mejores para tu salud.


MENÚ

Alimento	Precio	Calorías
Hamburguesa chica	\$3.60	290
Hamburguesa de queso chica	\$3.85	340
Doble hamburguesa	\$4.60	420
Doble hamburguesa de queso	\$4.85	510
Papas chicas	\$1.55	340
Papas medianas	\$2.50	408
Aros de cebolla chicos	\$2.55	310
Aros de cebolla medianos	\$3.50	450
Gaseosa chica	\$1.75	210
Gaseosa mediana	\$2.25	290
Batido de chocolate chico	\$3.75	670
Batido de chocolate mediano	\$4.50	990
Batido de chocolate grande	\$5.00	1,370

Tu proyecto Planea tu comida

Supón que ordenas comida en un restaurante. Escoge al menos tres comidas del menú anterior. Tu objetivo es gastar entre \$10.00 y \$15.00 y consumir entre 1,000 y 1,500 calorías. Halla la cantidad exacta de calorías de tu comida y compárala con tu objetivo de 1,000 a 1,500 calorías. Halla el costo total de tu comida.

Haz un modelo de tu comida usando papel de color o plastilina. Pega el modelo en una cartulina gruesa, que puede servir como tu individual. Escribe el precio total y las calorías totales de tu comida en la cartulina.



Nombre _____

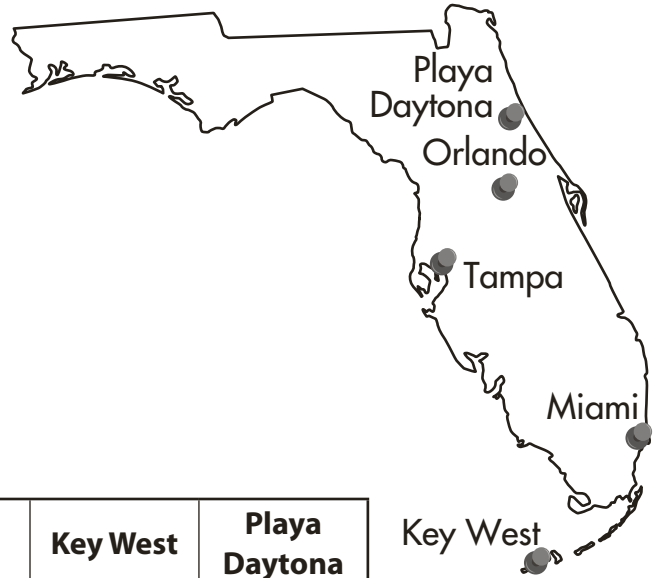
Escoge un proyecto

Proyecto 2D

Herramientas útiles para viajar

La tecnología puede hacer un viaje mucho más fácil. Las aplicaciones para los teléfonos celulares y los carros dan a los viajeros guías de voz, direcciones paso a paso y alertas de tráfico. También hay aplicaciones que estiman el tiempo de viaje y las diferentes rutas que los viajeros pueden escoger.

Muchos sitios web proveen información que ayuda a los turistas a escoger lugares para visitar. También hay sitios web que muestran distancias entre ciudad y ciudad.



Ciudad	Orlando	Miami	Tampa	Key West	Playa Daytona
Orlando		205.25	77.16	276.31	51.22
Miami	205.25		205.82	129.67	243.68
Tampa	77.16	205.82		238.32	123.1
Key West	276.31	129.67	238.32		325.03
Playa Daytona	51.22	243.68	123.1	325.03	

Distancia en millas

Tu proyecto Haz un diario de viaje

Imagina que estás llevando un diario de viaje. Escribe entradas diarias sobre viajes inventados a, al menos, tres de las ciudades que se muestran en la tabla. Describe qué haces en cada ciudad y escribe la mayor cantidad de detalles que puedas sobre tus aventuras. Haz un bosquejo de tus lugares favoritos y anota las distancias que recorriste de una ciudad a la otra. Usa una página del diario para cada ciudad.

Estima la distancia que recorriste en todo el viaje. Halla la distancia real y compárala con tu estimación. Muestra tu trabajo en la última página. Dibuja o diseña una portada para tu diario y coloca las páginas adentro.

