

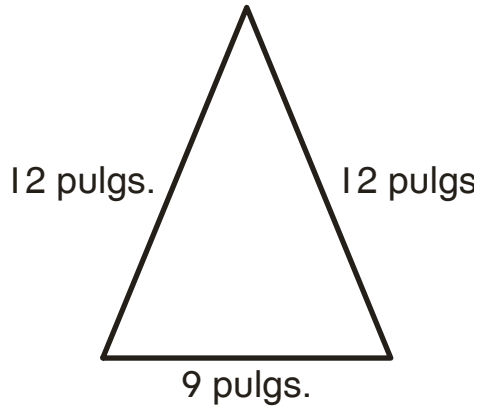
¿Falta o no falta?

Halla la distancia alrededor de cada figura.

Escribe una ecuación con un valor desconocido para cada problema.

Se dan ejemplos de ecuaciones.

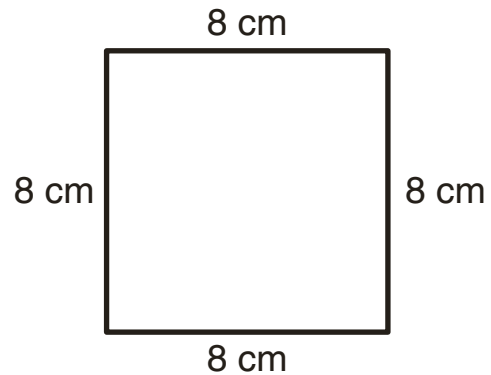
1.



$$12 + 12 + 9 = ?$$

33 pulgadas

2.

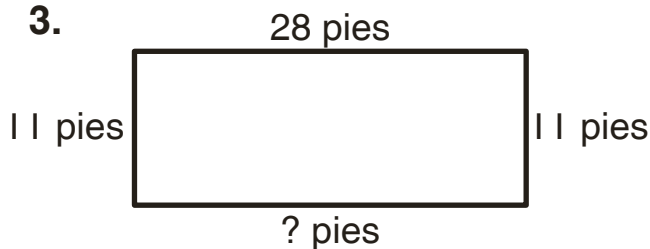


$$8 + 8 + 8 + 8 = ?$$

32 centímetros

Halla las longitudes de lado que faltan. Escribe una ecuación con un valor desconocido para cada problema.

3.

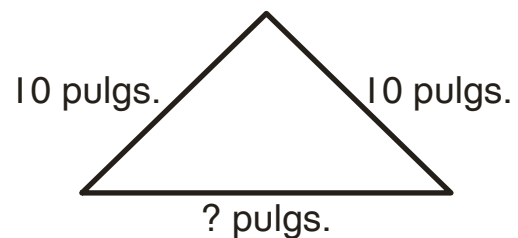


Distancia alrededor:
78 pulgs.

$$11 + 11 + 28 + ? = 78$$

28 pies

4.



Distancia alrededor:
36 pulgs.

$$10 + 10 + ? = 36$$

16 pulgadas