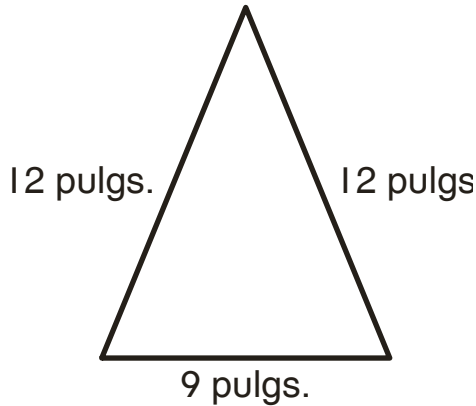


¿Falta o no falta?

Halla la distancia alrededor de cada figura.

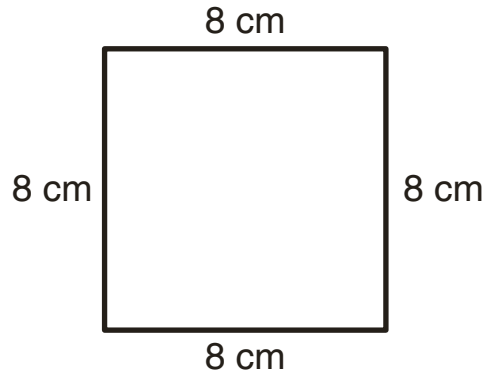
Escribe una ecuación con un valor desconocido para cada problema.

1.



_____ pulgadas

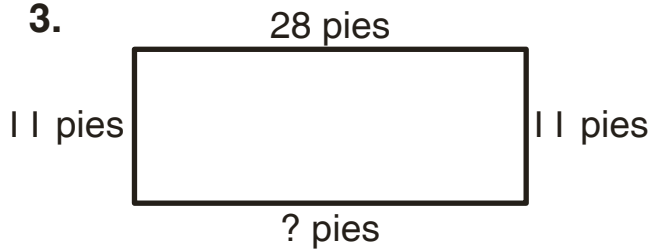
2.



_____ centímetros

Halla las longitudes de lado que faltan. Escribe una ecuación con un valor desconocido para cada problema.

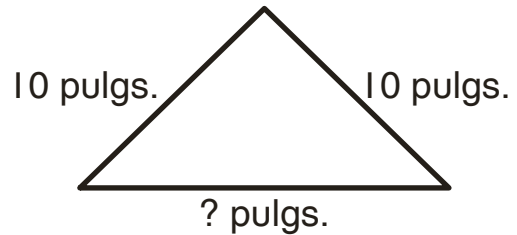
3.



Distancia alrededor:
78 pulgs.

_____ pies

4.



Distancia alrededor:
36 pulgs.

_____ pulgadas