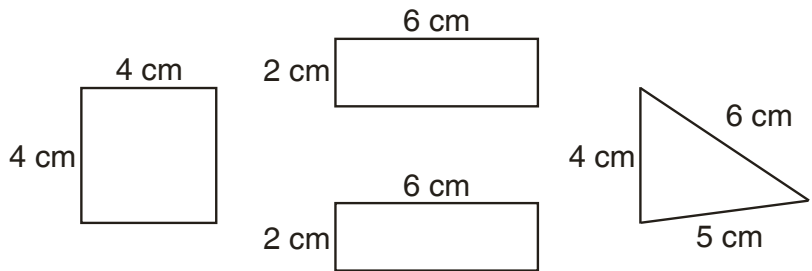


Nombre \_\_\_\_\_


# Las figuras de Enrique

Enrique usa estos 4 bloques para hacer dos figuras distintas.



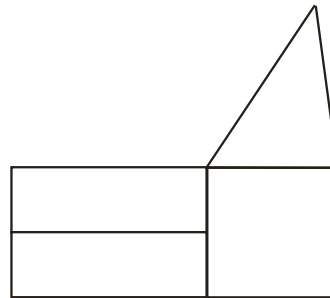
¿Cuál es la distancia que hay alrededor de cada figura?

1.



\_\_\_\_\_ cm

2.



\_\_\_\_\_ cm

3. Dibuja una figura usando 3 de los bloques de Enrique.

Halla la distancia que hay alrededor de tu figura.



La distancia que hay alrededor de mi figura es \_\_\_\_\_ cm.