

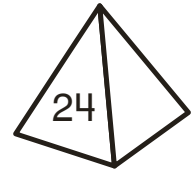
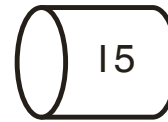

Nombre _____

Ampliación


5-4

Restas en el subibaja

Los totales deben ser iguales en ambos lados de cada subibaja. Dibuja la media esfera, el cubo, el cilindro o la pirámide a la derecha de cada subibaja para equilibrarlo. Luego, escribe el problema de resta que usaste como ayuda.

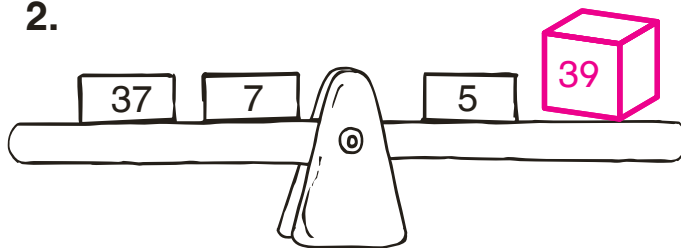


1.



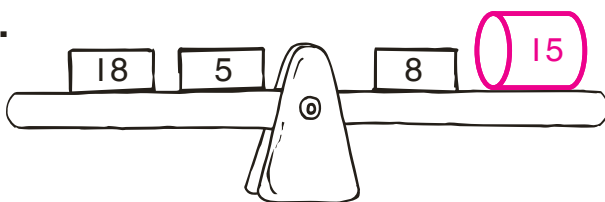
Total del lado izquierdo	Lado derecho	Nuevo elemento
27	2	<u>25</u>

2.




$$\underline{44} - \underline{5} = \underline{39}$$

3.



$$\underline{23} - \underline{8} = \underline{15}$$

4.



$$\underline{31} - \underline{7} = \underline{24}$$