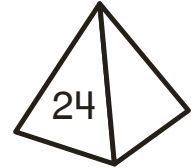





Nombre \_\_\_\_\_

# Restas en el subibaja

Los totales deben ser iguales en ambos lados de cada subibaja. Dibuja la media esfera, el cubo, el cilindro o la pirámide a la derecha de cada subibaja para equilibrarlo. Luego, escribe el problema de resta que usaste como ayuda.




1.




Total del lado izquierdo		Lado derecho		Nuevo elemento
27	-	2	=	_____

2.




\_\_\_\_\_ - \_\_\_\_\_ = \_\_\_\_\_

3.



\_\_\_\_\_ - \_\_\_\_\_ = \_\_\_\_\_

4.



\_\_\_\_\_ - \_\_\_\_\_ = \_\_\_\_\_