



Decir la hora

Halla la hora que muestra el reloj respondiendo a las preguntas 1 a 8.

1. ¿Entre qué dos números se encuentra la manecilla de la hora?

_____ y _____

2. Como la manecilla de la hora no ha llegado a las 6, son las 5 pasadas. Escribe 5 para representar la hora en el reloj digital.

3. El minutero tarda 5 minutos en moverse de un número al próximo. Para hallar los minutos, primero cuenta de 5 en 5 del 12 al 7. Luego, cuenta de 1 en 1 para representar cada marca pequeña después del 7.

4. ¿Cuántos minutos pasan de las 5? _____
Escribe los minutos en el reloj digital de arriba.

5. Escribe la hora de tres formas diferentes.

_____ : _____;

_____ y treinta y siete;

las 5 y _____ minutos

6. Para averiguar cuántos minutos faltan para la próxima hora, cuenta de 5 en 5 del 12 al 8 y luego cuenta de 1 en 1 para representar cada marca pequeña después del 8.

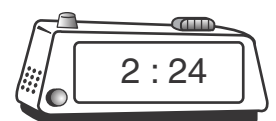
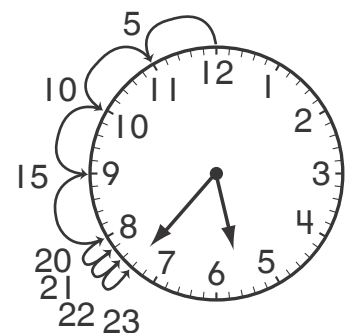
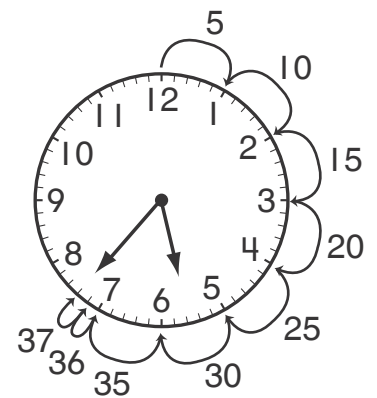
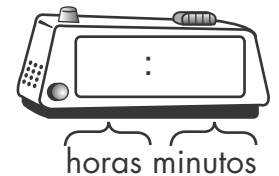

7. ¿Cuántos minutos faltan para las 6? _____

8. Escribe la hora de otra forma.

las 6 menos _____ minutos

9. Escribe de dos formas diferentes la hora que muestra el reloj de la derecha.

_____ y veinti _____; las 2 y _____ minutos





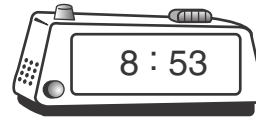
Decir la hora (continuación)

Escribe de dos formas la hora que se muestra en cada reloj.

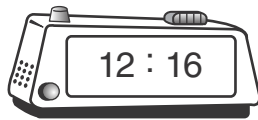
10.




11.



12.




13.



14.



15.



16. **Razonamiento** Para hallar el número de minutos del reloj de la derecha, ¿por qué cuentas primero de 5 en 5 y luego de 1 en 1?

